


Dzisiaj kochane Sówki w dalszym ciągu pozostajemy na wiejskim podwórku tym razem – wspólne zabawy z matematyką, oczywiście z udziałem wiejskich zwierząt ☺

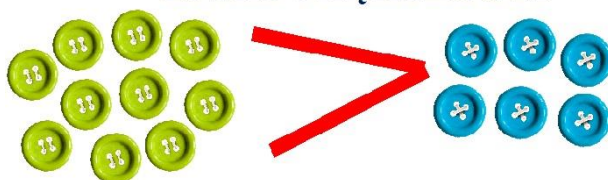
Zanim zaczniemy naszą przygodę, przypomnimy sobie następujące znaki:

ZNAK MNIEJSZOŚCI



6 jest mniej niż 9

ZNAK WIĘKSZOŚCI



10 jest więcej niż 6

ZNAK RÓWNOŚCI

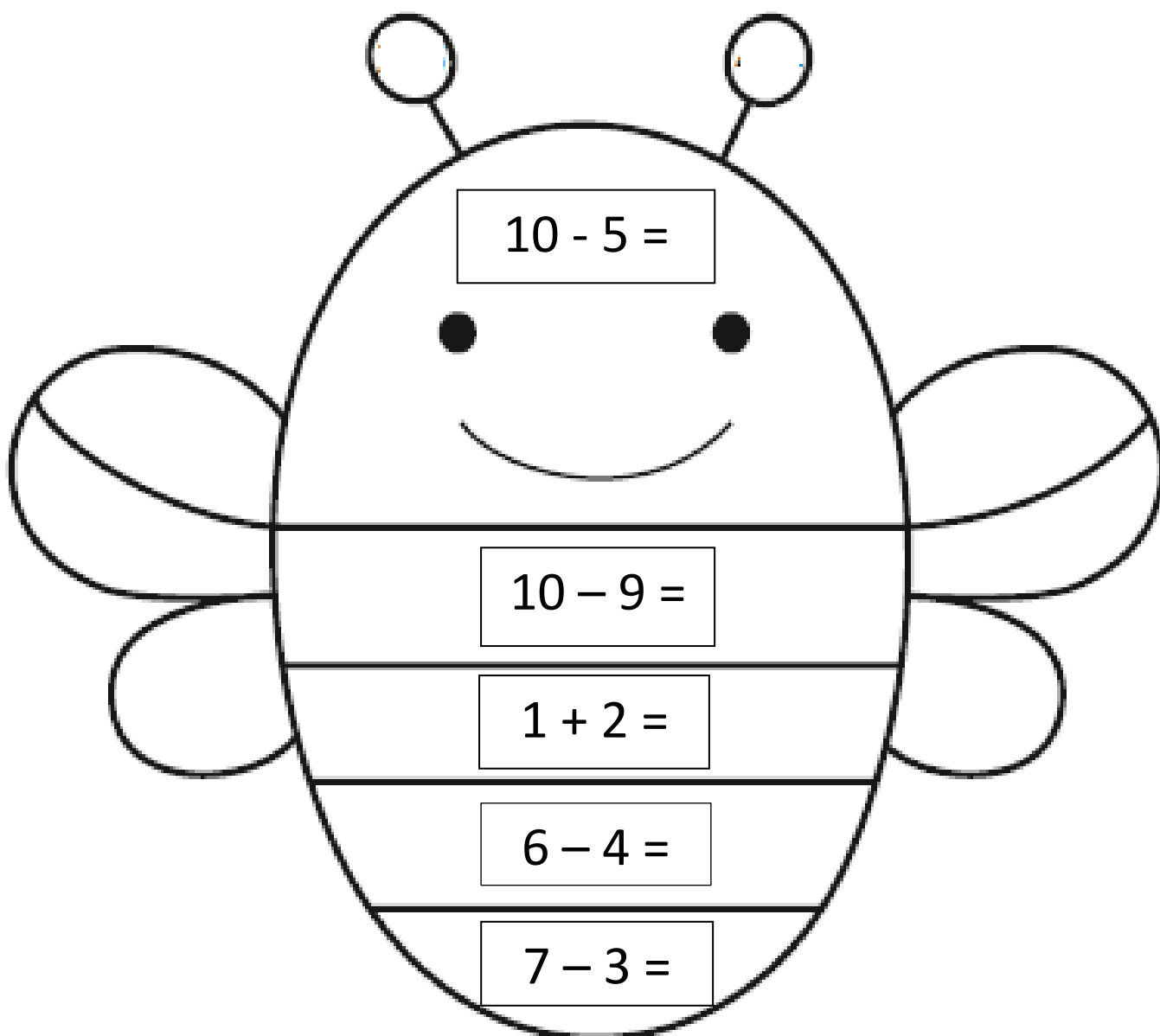


5 jest tyle samo co 5

Na samym początku „**Matematyczne zagadki**”. Po każdej rozwiązanej zagadce zamalujcie jedno pole na karcie z pszczołą. Numer zagadki = wynik działania.

Zaczynamy!

1. Wymień dwa pojazdy, które posiadają tylko dwa koła (**CZARNY**)
2. Ile palców u obu dłoni ma człowiek? (**CZARNY**)
3. Ile dzieci dostanie jabłko, jeżeli w koszyku jest ich 6? (**ŻÓŁTY**)
4. Jak nazywa się figura geometryczna, która ma wszystkie boki równe? (**ŻÓŁTY**)
5. Która z tych liczb jest większa 5 czy 3? (**ŻÓŁTY**)



Podobało Wam się zadanie?





Możemy przejść do kolejnego. Popatrzcie na obrazek. Ukryły się na nim zwierzęta, które już znacie. Waszym Zadaniem jest wstawienie w puste okienko odpowiedniego

znaku $<$ $>$ lub $=$

Patrzcie uważnie na ilustracje!



Gdzie mniej, gdzie więcej, a gdzie tyle samo?



Przyszedł czas na gimnastykę – najważniejsze co będzie Wam potrzebne to uśmiech i dobry humor ☺ Bawcie się dobrze i ćwiczcie dokładnie.

<https://www.youtube.com/watch?v=Tc82wV1jV-4>

Dziękuję Wam za piękną pracę!

Na zakończenie – **zapraszam do uzupełnienia zadania w kartach pracy (cz.4, s. 82)**

Ułóż zadania do przedstawionych sytuacji. Napisz odpowiednie liczby i znaki.

1	3	4		7	9	
---	---	---	--	---	---	--

Wpisz brakujące liczby.

82

Zabawy popołudniowe:

Zapraszam do wspólnego tańca razem z rodzicami lub rodzeństwem, Gumi – miś”

<https://www.youtube.com/watch?v=oGJg1RSOof4>